



Kulleġġ Santa Margerita
Eżamijiet ta' Nofs is-Sena 2014

Is-Sitt Sena

Studji Soċjali

Fin: Siegħa u Kwart

Isem: _____ Klassi: _____

A. Pogġi dawn il-kelmiet f'posthom:

fossili	Għar Dalam	gzejjer	Għolja Xiberras	megalitiku
Ġibiltà'	ġir	Sindku	kummerċ	Ewropa

1. Il-fliegu ta' _____ huwa wieħed mit-tliet fetħiet li għandu l-Mediterran.
2. Il-kelma 'arċipelagu' tfisser grupp ta' _____.
3. Malta tinsab fil-kontinent tal-_____ .
4. Mill-blat tal-Qawwi jsir il-_____ .
5. Kelma oħra għal għadam ġebli li nstab f' Għar Dalam hija _____.
6. Bix-xwieni tagħhom il-Kavallieri kienu qed ifixklu l- _____ tat-Torok.
7. It-tempju ta' Haġar Qim jissejjaħ _____ għax mibni b'ġebel kbir.
8. L-_____ kienet imħarsa mill-fortizzi ta' Sant Iermu u Sant Anglu.
9. _____ jagħti xhieda li darba Malta kienet magħquda mal-Ewropa.
10. Il-Kunsill Lokali jitmexxa mis-_____ .

(10 marki)

B. Aghmel sinjal taht il-gzejjer.

Ċipru	Spanja	Korsika	Albanija
Marokk	Sardinja	Kreta	Sqallija

(5 marki)

Ċ. Qabbel l-istampa mal-isem tal-pajjiż fejn jinsabu:

Għandek waħda bħala eżempju.



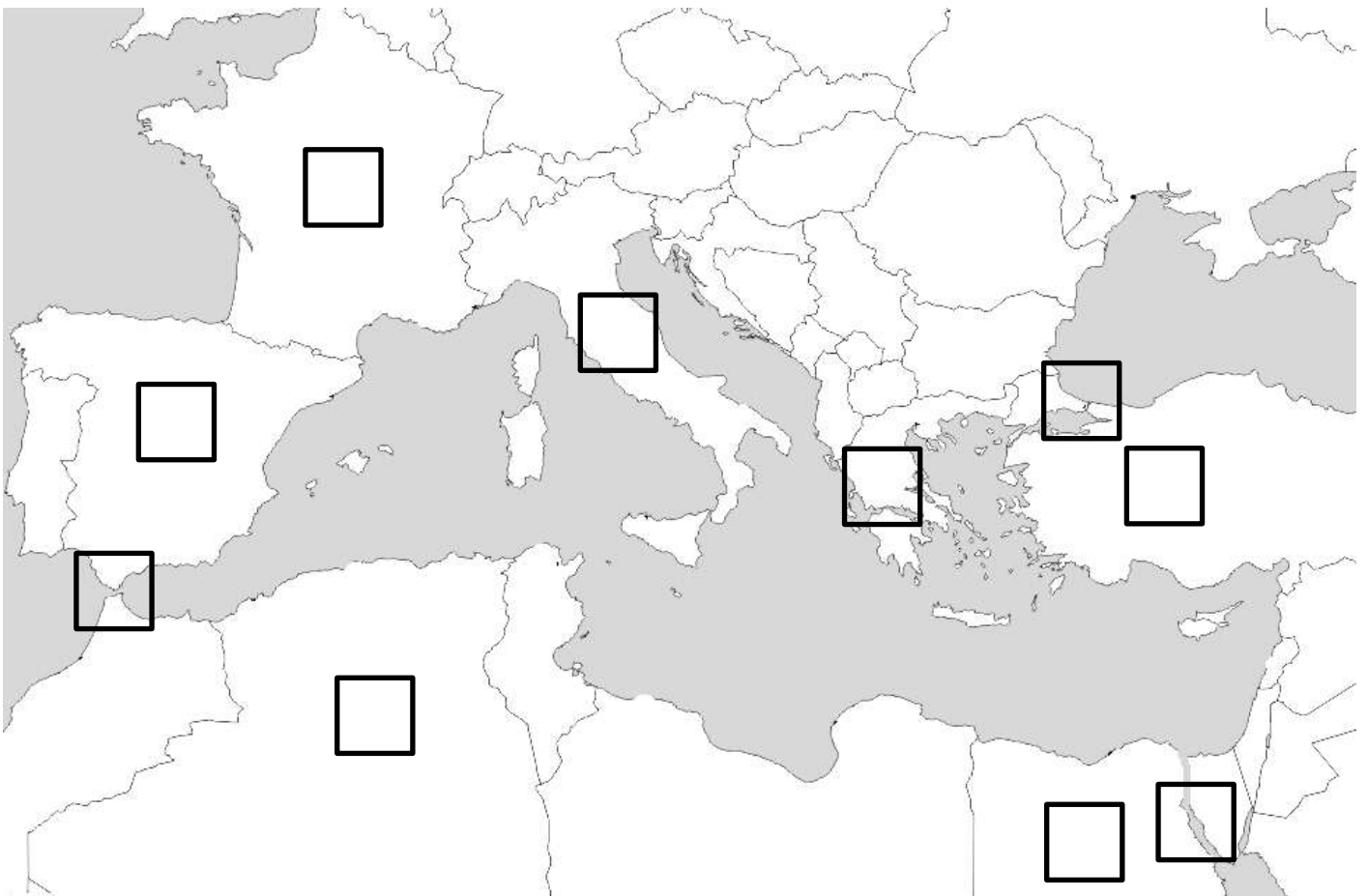
Greċja	Franza	Ingilterra	Egittu	Italja	Malta
--------	--------	------------	--------	--------	-------



(5 marki)

D. Fares sew lejn il-mappa u iktieb fil-kaxxa n-numru ta' dawn il-pajjizi u fethiet li nsibu fil-baħar Mediterran.

1	Fliegu ta' Ġibiltà	2	Greċja
3	Algerija	4	Spanja
5	Turkija	6	Italja
7	Franza	8	Kanal tas-Swejz
9	Dardanelli	10	Egittu



(10 marki)

E. Partit politiku jipprova jwassal il-messaġġ tiegħu lill-ikbar numru ta' nies possibbli. Semmi 5 mezzi ta' komunikazzjoni soċjali li permezz tagħhom jagħmel dan. L-ewwel waħda hi eżempju.

Eżempju: Jorganizza laqgħat politiċi f'każini tal-partit.

1. _____

2. _____

3. _____

4. _____

5. _____

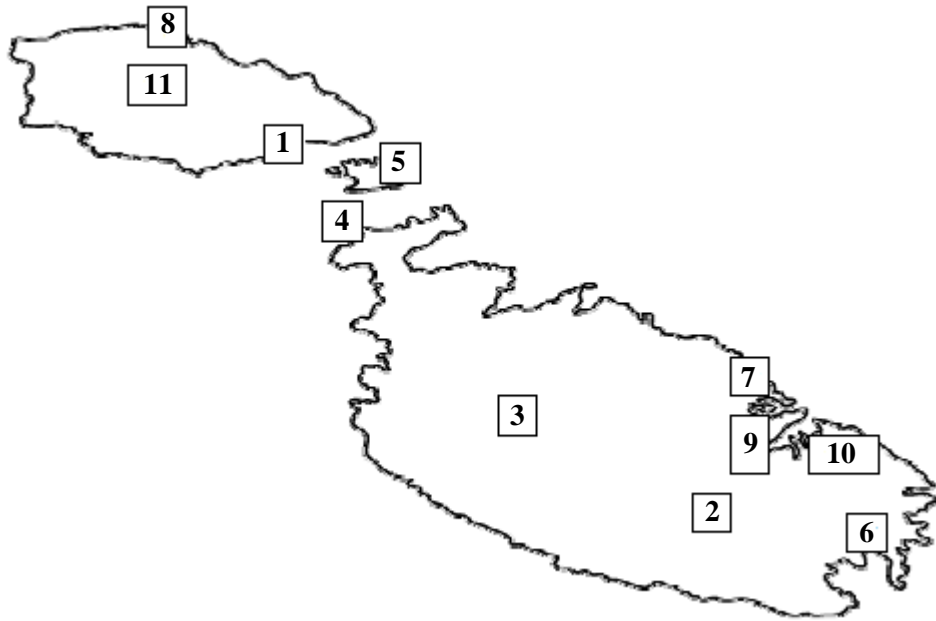
(5 X 2 marki = 10 marki)

F. Qabbel il-lista A mal-lista B billi tikteb in-numru fil-kolonna tan-nofs. L-ewwel waħda hija lesta.

	Kolonna A		Kolonna B
1	Fossili		L-eqdes kamra fl-Ipogew ta' Ffal-Saflieni.
2	Ipogew		Ġebbla megalitika wieqfa.
3	Neolitiku		Isem ta' tempju megalitiku f'Għawdex.
4	Dolmen		Nies li jfittxu u jistudjaw fdal pre-istoriku
5	Pre-Istorja		Tirrappreżenta 'l Alla tal-fertilita'.
6	Arkeologi		Iż-żmien il-ġdid tal-Flagar.
7	Megalitiku		Tempju taħt l-art li kien iservi għad-dfin.
8	Sancta Sanctorum	1	Fdal ta' animali jew pjanti misjub fil-ġebel.
9	Statwa tal-'Mara l-Flaxna'		Ġebbla megalitika mimduda.
10	Menhir		Żmien ta' qabel ma bdiet tinkiteb l-istorja.
11	Il-Ġgantija		Mibni b' ġebel kbir.

(10 marki)

Ġ. Fares sew lejn din il-mappa u imla l-vojt fit-tabella l-isem tal-post skont in-numri li hemm fuq il-mappa. L-ewwel waħda hi eżempju.



1	Port prinċipali f' Għawdex.	Imgarr
2	L-ajruport internazzjonali hemm jinsab.	
3	Minn hawn niżlet il-kavallerija tattakka lit-Torok waqt l-Assedju.	
4	Minn hawn jitlaq il-vapur lejn Għawdex.	
5	Gżira bejn Malta u Għawdex.	
6	It-Torok minn hawn niżlu l-art minn fuq ix-xwieni.	
7	Post turistiku jħares lejn il-Port ta' Marsamxett	
8	Bajja kbira popolari f' Għawdex.	
9	Hawn jinsab il-Palazz tal-President u Kastilja.	
10	Il-kavallieri kienu jgħixu hawn għall-ewwel snin wara li waslu Malta.	
11	Il-Belt ewlenija ta' Għawdex.	

(10 marki)

G. Aqta' sing taħt it-twegiba t-tajba. L-ewwel waħda hi eżempju.

Eżempju: (Il-lingwa, Il-karozza, It-triq, L-Iskola) hi mezz ta' komunikazzjoni soċjali mill-aqwa.

1. F'Malta, l-aktar lingwi użati huma (t-Taljan u l-Ispanjol, l-Ingliż u l-Ispanjol, l-Malti u l-Ingliż, l-Malti u t-Taljan).
2. Il-poplu Malti jagħzel il-gvern li jrid imexxih għal ħames snin billi jivvota f' (referendum, elezzjoni generali, kuntatt personali, bl-internet).
3. Biex tivvota f'elezzjoni generali f'Malta trid tkun għalaqt (ħmistax, sittax, sbatax, tmintax) -il sena.
4. Il-kunsill lokali jitmexxa minn (Prim Ministru, President, Sindku, Kappillan).
5. Id-deputati jkunu prezenti għal-laqqgħat fil- (kunsill parrokjali, parlament, kunsill lokali, każin tal-banda).
6. Il-laqqgħat tal-parlament jitmexxew mill-(Prim Ministru, President, Ispeaker, Kap tal-Oppożizzjoni).
7. Il-President ta' Malta jintgħazel (mill-parlament, mill-poplu, mis-sindki, minn kulħadd).
8. Il-President ta' Malta jinħatar għal perjodu ta' (tliet, erba', ħames, sitt) snin.
9. L-uffiċju tal-Prim Ministru jinsab fil-(Kurja, Berġa ta' Kastilja, Palazz tal-President, Qorti).
10. Il-Berġa ta' Kastilja tinsab (l-Imsida, il-belt Valletta, il-Birgu, Tas-Sliema).

(10 X marka = 10 marki)

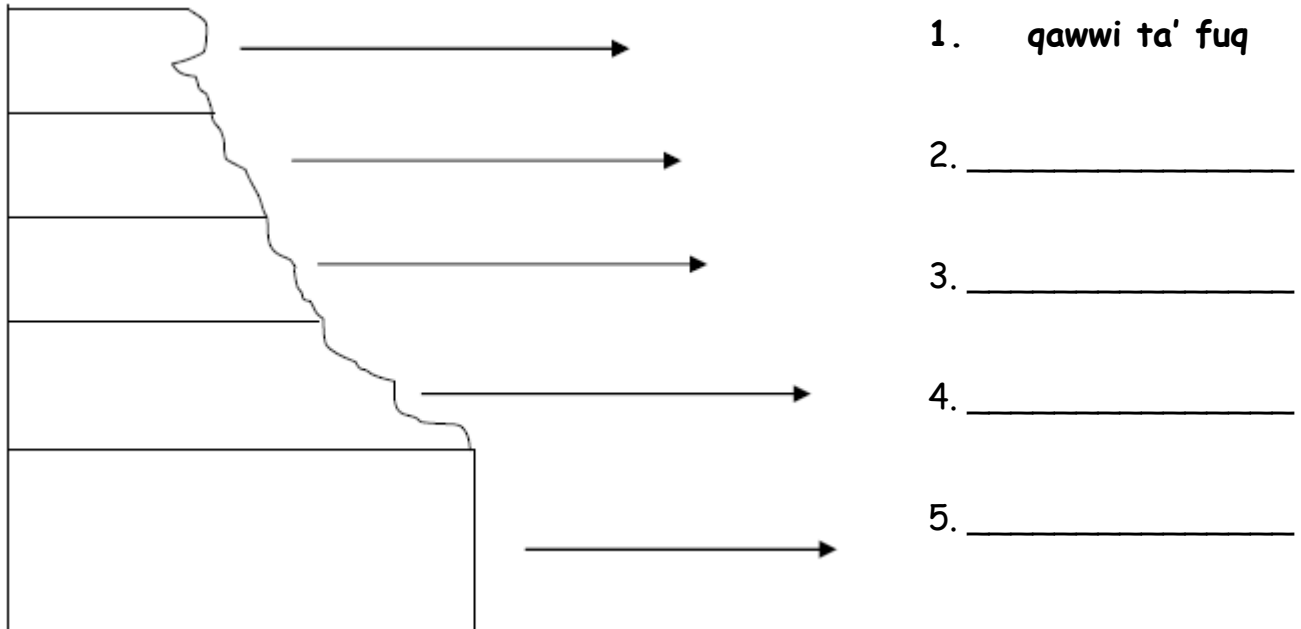
GH. Semmi ŻEWĠ:

i.	Tempji Megalitiċi		
ii.	Għodod magħmulin mill-ġebel jew injam li użaw in-nies fiż-Żmien Neolitiku.		
iii.	Pajjiżi fl-Ewropa li għandhom ix-xtajta tal-baħar tagħhom tmiss mal-Mediterran.		
iv.	Bajjiet ramlija f'Malta jew f'Għawdex.		
v.	Pajjiżi fl-Afrika li għandhom ix-xtajta tal-baħar tagħhom tmiss mal-Mediterran.		

(10 marki)

H. Imla l-vojt bil-kliem li hawn taħt. L-ewwel waħda hija eżempju.

sedimentarju	żonqor	fossili	ġebbla s-safra	bini	irdum
qawwi ta' fuq	franka	barrieri	iebes	tafli	



6. Il-blat ta' Malta u Għawdex ifforma f'qiegħ il-baħar minn frak u qxur ta' ħlejjaq tal-baħar. Dan jissejjaħ blat _____.
7. L-aktar blat _____ tal-gzejjer Maltin hu ż-żonqor.
8. Il-ġebbla tal-franka tinqata' f' kantun ġewwa l-_____ .
9. Il-ġebbla tal-franka tintuza ħafna fil-_____ tad-djar Maltin.
10. Il-_____ tal-ħlejjaq tal-baħar li nsibu fil-blat tagħna huma prova li Malta ffurmat taħt il-baħar.
11. Meta blat għoli ħafna jinzel dritt fil-baħar, ngħidu li jkun hemm _____ .

(10 marki)

